


PRIMER GRADO DE PRIMARIA



ECEV

Evaluación Censal a Estudiantes de Ventanilla

2014

MATEMÁTICA



APELLIDOS Y NOMBRES: _____

INSTITUCIÓN EDUCATIVA: _____

SECCIÓN: _____



**MODELO DE GESTIÓN DE CALIDAD
VENTANILLA**

PRUEBA DE ENTRADA

Indicaciones



Lee cada pregunta con mucha atención.

- Luego, resuelve cada pregunta y marca con una X la respuesta correcta.
- Si necesitas volver a leer la pregunta, puedes hacerlo.
- Solo debes marcar una respuesta por cada pregunta.
- Usa solo **LÁPIZ** para marcar. No uses colores ni lapiceros.

Vamos a resolver juntos el primer ejemplo.

Resuelve.

$$\begin{array}{r} 2 \\ + \\ \hline 5 \end{array}$$



Ahora marca tu respuesta.

- a** 7
- b** 8
- c** 9

Ahora resuelve tú solo el segundo ejemplo.

Tengo 4 canicas. Mi abuelo me regala 2 canicas más. ¿Cuántas canicas tengo en total?



Ahora marca tu respuesta.

- a** 5 canicas
- b** 6 canicas
- c** 8 canicas

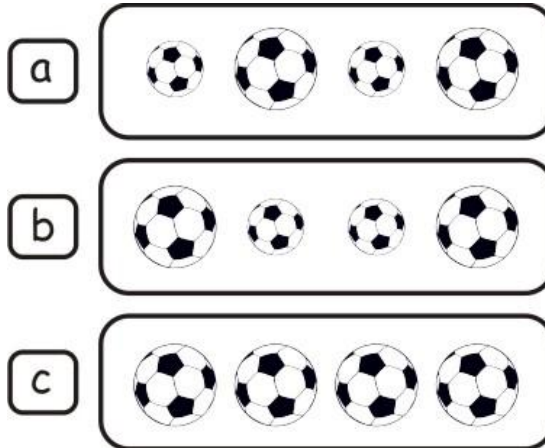
- Resuelve tu cuadernillo en silencio sin mirar las respuestas de tus compañeros.
- Solo podrás preguntar si tienes dudas de cómo marcar tus respuestas.
- ¡Haz tu mejor esfuerzo! Así podrás demostrar cuánto has aprendido.

"Tú eres una persona especial y nadie debe hacerte daño o lastimarte"




Lee y piensa bien antes de marcar tus respuestas.
Ahora puedes empezar.


1 Todas las pelotas que tengan el mismo tamaño.



2 Marca con (X) el grupo donde todas son frutas.



3 ¿Dónde hay tantas manzanas como naranjas?



4

Observa.



¿Qué figura sigue en la serie?

a



b




c



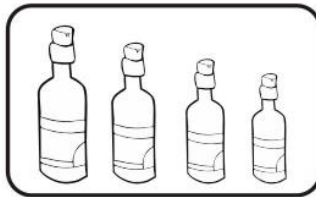
5

¿En qué grupo se han ordenado las botellas de mayor a menor?
Marca con una (X) tu respuesta.


a



b




c



6

¿Quién va en tercer lugar en la carrera?



a



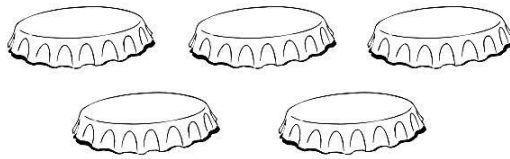
b



c

7

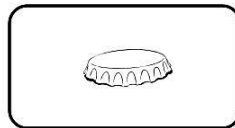
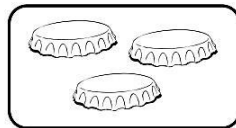
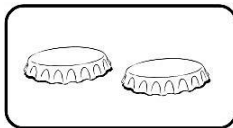
Luisa tiene 5 chapitas. Si se le pierden 3 chapitas. ¿Cuántas chapitas le quedarán?



a


b

c




8

Rosa tiene 3 caramelos y su mamá le da 2 más. ¿Cuántos caramelos tiene ahora?



Rosa

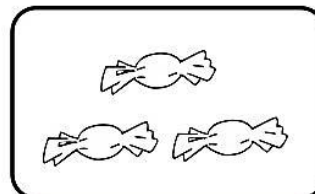
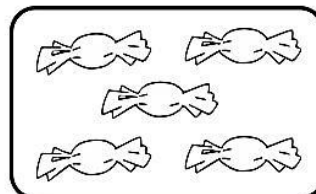
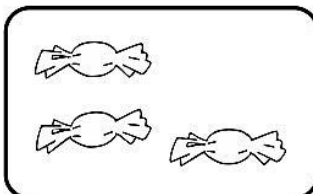


Mamá

a


b

c



9

Lupe tiene 2 lápices y un tajador. ¿Cuántos útiles escolares tiene en total?



a

1

b

3

c

4

10

Observa, relaciona el número con la figura y marca la respuesta correcta.

a b c

5 4 3




11

Observa las siguientes figuras. ¿Cuántos peces hay?

a 5 b 6 c 7

12

Lee la tabla y responde. ¿Cuántas niñas usan polo?

	polo 	falda 
niñas 	3	2

a 2 b 3 c 5



13


Marca un número menor que:



- a 2 b 3 c 5

14

¿Cuántos caramelos hay en el pomo?

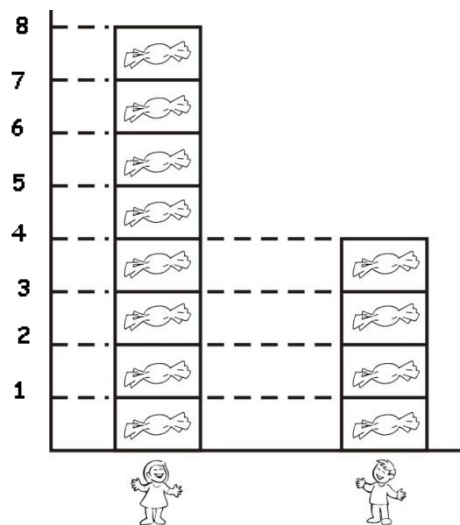



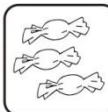

- a 4
b 3
c 5

15

Observa el gráfico. Marca con una (X).

¿Quién tiene menos caramelos?



- a 
b 
c 

¡Felicitaciones! Has terminado.